


COMPITI DI ITALIANO CLASSE 1[^]C - DAL 20 APRILE AL 26 APRILE

COPIA LE PAGINE SCRITTE DA ME SUL QUADERNO E COMPLETA LE SCHEDE FACENDOLE PRECEDERE DALLA DATA.

LEGGI (ALMENO 3 VOLTE) PAG **48** LAGO BLU ROSSO


MESTRE 20 APRILE

oggi è lunedì



CIA CIO CIU

cia cio ciu



CIABATTA

ciabatta



CIOCCOLATA

cioccolata



CIUCCIO

ciuccio

CIA CIA CIA CIA

CIO CIO CIO CIO


CIU CIU CIU CIU

CERCHIA CIA CIO CIU


MI PIACCONO LE

CIAMBELLE. 

HO IL CIUFFO UN PO'

RIBELLE 


CIA CIO CIU

HO IL NASINO 

ALL' INSÙ.

COMPLETA CON CIA CIO

CIU *cia cio ciu*



--- MBELLA
m b e l l a



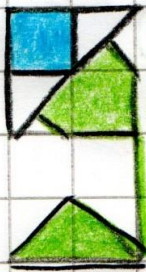

--- TOLA
t o l a



--- FFO
- - - f f o

MESTRE 21 APRILE

oggi è martedì



GIA GIO GIU gia gio
giu




GIACCA

g i a c c a



GIOCATTOLO

g i o c a t t o l o



GIUBBOTTO

g i u b b o t t o

Completa con GIA GIO

GIU gia gio giu



___ STRA

___ stra



PIOG___

piog___



FA___LO

fa___lo



___LLARE

___llare



___LLO

___llo

CIA - CIO - CIU

SCRIVI A FIANCO LE PAROLE. ATTENTO, LA I IMPICCIONA GIOCA BRUTTI SCHERZI.


BACO



BACIO



PANCA





RICCO





COMPLETA LE PAROLE CON **CIA - CIO - CIU**.



FREC.....



RIC.....




.....FFO



.....CCIO



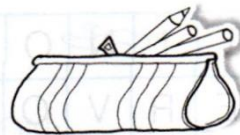
TREC.....



.....CCOLATA



MI.....



ASTUC.....



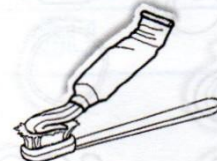
.....BATTA



CANNUC.....



CAMI.....



DENTIFRI.....

GIA - GIO - GIU

SCRIVI LE PAROLE NEL SACCO GIUSTO.

GIALLO - GIARDINO - GIOSTRA - GIUBBOTTO - GIUDICE -
GIOCATTOLI - GIOVEDÌ - GIACCA - VALIGIA - GIORNO -
GIUGNO - GIURARE - GIORNALE - GIUSTO - VIAGGIO.



RISOLVI GLI INDOVINELLI.

- FORMANO UNA SQUADRA. _____
- HA VENTiquATTRO ORE. _____
- CADE DAL CIELO QUANDO C'È IL TEMPORALE. _____
- SEGUE IL MESE DI MAGGIO. _____
- IN UN ANNO CE NE SONO QUATTRO. _____



LEGGO E CAPISCO.

IL PESCIOLINO D'ORO

UN NONNO E UNA NONNA VIVEVANO IN UNA CAPANNA VICINO ALLA RIVA DI UN FIUME. ERANO MOLTO POVERI, COSÌ IL NONNO ANDAVA A PESCARE PER PROCURARSI QUALCOSA DA MANGIARE.

UN GIORNO AL SUO AMO ABBOCÒ UN PESCE TUTTO D'ORO...

“QUANTE COSE BUONE POTREI COMPRARE SE SOLO LO VENDESSI!” PENSÒ IL NONNO.

MA IL PESCIOLINO LO SUPPLICÒ: - LASCIAMI ANDARE, TI PREGO!

IL NONNO SI INTENERÌ E LIBERÒ IL PICCOLO PESCE, POI SI INCAMMINÒ VERSO LA CAPANNA E... INCREDIBILE!

LA SUA MISERA CASETTA SI ERA TRASFORMATA IN UN MERAVIGLIOSO PALAZZO, PROPRIO COME QUELLO DEL RE...

ALLORA IL NONNO CAPÌ E, GUARDANDO VERSO IL FIUME, DISSE:

-GRAZIE, PESCIOLINO MAGICO!

DA QUEL GIORNO I NONNI NON SOFFRIRONO PIÙ LA FAME E VISSERO PER SEMPRE FELICI.

**DOPO LA LETTURA, LEGGI E RISPONDI AD ALTA VOCE ALLE
DOMANDE.**

DOVE VIVONO I DUE NONNI?

- IN UNA GRANDE CASA IN CITTÀ.
- SU UN BATTELO ANCORATO LUNGO IL FIUME.
- IN UNA CAPANNA VICINO AL FIUME.

COM'È IL PESCIOLINO?

- È ROSSO.
- È A STRISCE.
- È D'ORO.

CHE COSA CHIEDE IL PESCIOLINO AL NONNO?

- VUOLE UN AIUTO PER RAGGIUNGERE IL MARE.
- DESIDERA LA LIBERTÀ.
- DOMANDA UN PO' DI COMPAGNIA.

CHE COSA FA ALLORA IL NONNO?

- AIUTA IL PESCIOLINO A RAGGIUNGERE IL MARE.
- PORTA IL PESCIOLINO A CASA SUA.
- LASCIA LIBERO IL PESCIOLINO.

COME FINISCE LA FIABA?

RACCONTA E POI FAI UN DISEGNO.

COMPITI DI MATEMATICA 20/26 APRILE

CONTINUIAMO A IMPARARE LE COPPIE DI NUMERI CHE, INSIEME, FORMANO 4, 5, 6. ADESSO LA COSA E' UN PO' PIU' IMPEGNATIVA, MA SI SA CHE QUANDO IL GIOCO SI FA DURO, I DURI COMINCIANO A GIOCARE, E NOI SIAMO DURISSIMI, VERO?

RICOPIA SUL QUADERNO DI MATEMATICA ED ESERCITATI A MANDARE A MENTE LE COPPIE DI NUMERI CHE TROVI NELLE CASE DEL 4, DEL 5, DEL 6.

ORMAI LO SAI, MA TI RICORDO CHE LE CONSEGNE VANNO SCRITTE IN ROSSO, GLI ALTRI COLORI, COME SEMPRE, LI SCEGLI TU.

SE VUOI PUOI ANCHE MODIFICARE LE DECORAZIONI DEL TETTO, MA NON SCORDARTI DI INSERIRE IL NUMERO DEL PROPRIETARIO DELLA CASA.

SE TI AVANZA TEMPO, PUOI CONCLUDERE CON LA SOLITA CORNICETTA A PIACERE.

SU CLASSROOM PUBBLICHERO' ALTRI GIOCHI, SOPRATTUTTO CON I NUMERI AMICI DEL 4, DEL 5 E DEL 6, MA ANCHE CON QUELLI CHE HAI GIA' STUDIATO, TUTTI INSIEME!! SONO SICURISSIMA CE LA FARAI.

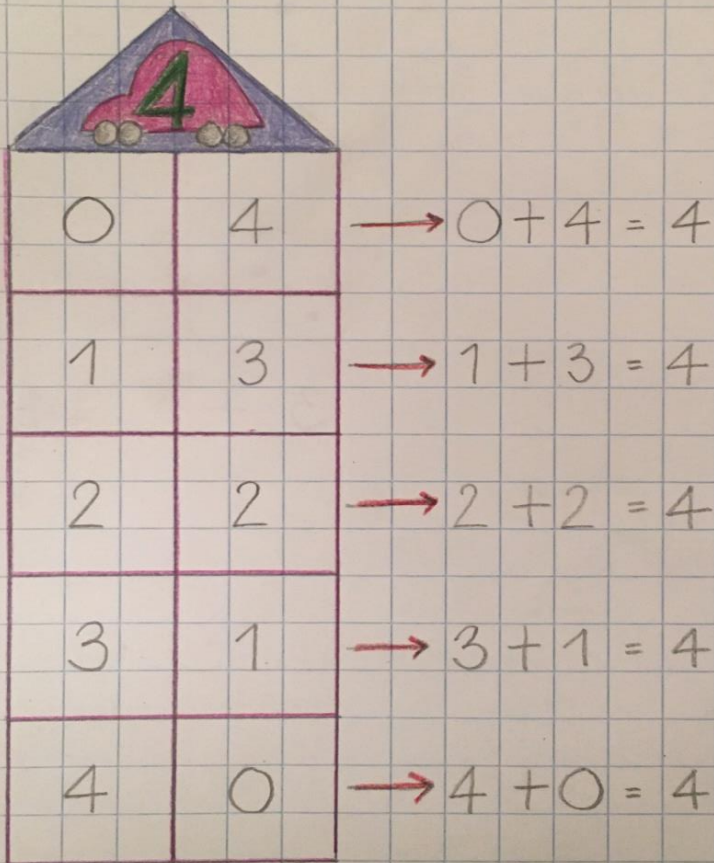
ASPETTO I TUOI COMPITI SU CLASSROOM.

TI MANDO UN BACINO


ANNALISA

I NUMERI AMICI DEL 4

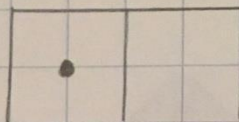
QUESTA È LA CASA DEL 4




COMPLETA IN MODO
CHE IN OGNI SCATOLA
CI SIANO 4 PALLINI



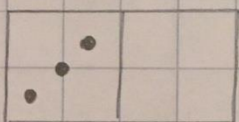
$$0 + 4 = 4$$



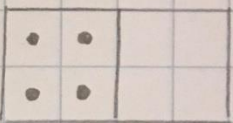
$$1 + \dots = 4$$



$$2 + \dots = 4$$



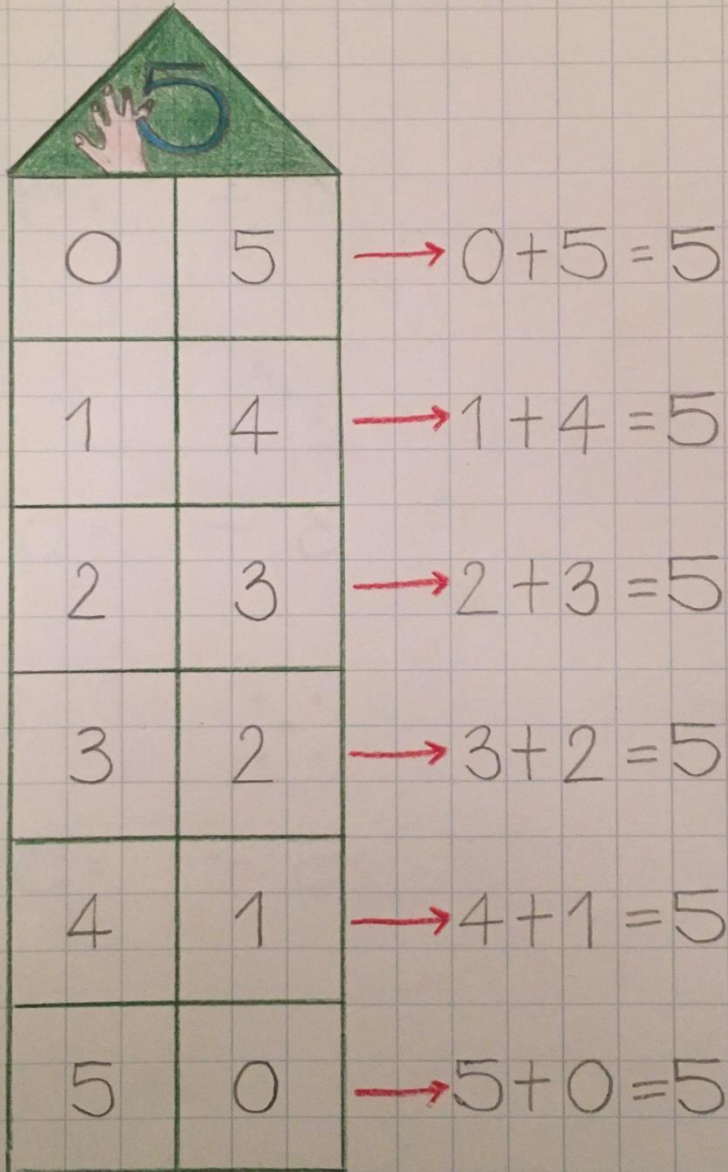
$$3 + \dots = 4$$



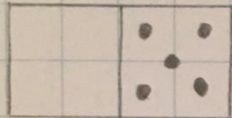
$$4 + \dots = 4$$

I NUMERI AMICI DEL 5

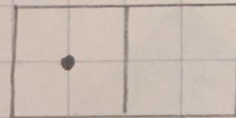
QUESTA È LA CASA
DEL 5



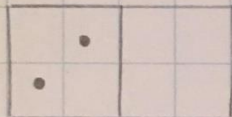
COMPLETA IN MODO
CHE IN OGNI SCATOLA
CI SIANO 5 PALLINI



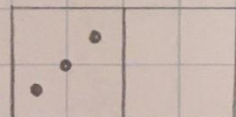
$$0 + 5 = 5$$



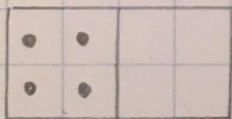
$$1 + \dots = 5$$



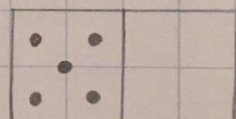
$$2 + \dots = 5$$



$$3 + \dots = 5$$



$$4 + \dots = 5$$



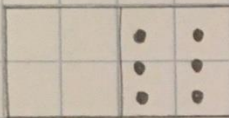
$$5 + \dots = 5$$

I NUMERI AMICI DEL 6
QUESTA È LA CASA
DEL 6

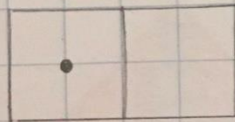


0	6	$\rightarrow 0 + 6 = 6$
1	5	$\rightarrow 1 + 5 = 6$
2	4	$\rightarrow 2 + 4 = 6$
3	3	$\rightarrow 3 + 3 = 6$
4	2	$\rightarrow 4 + 2 = 6$
5	1	$\rightarrow 5 + 1 = 6$
6	0	$\rightarrow 6 + 0 = 6$


COMPLETA IN MODO
CHE IN OGNI SCATOLA
CI SIANO 6 PALLINI



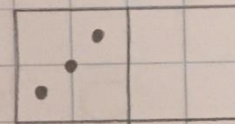
$$0 + 6 = 6$$



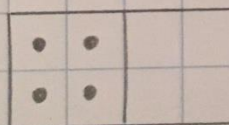
$$1 + \dots = 6$$



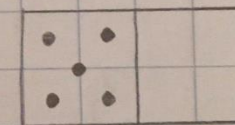
$$2 + \dots = 6$$



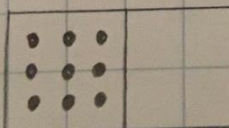
$$3 + \dots = 6$$



$$4 + \dots = 6$$



$$5 + \dots = 6$$



$$6 + \dots = 6$$